







- ✓ Se repérer sur un quadrillage
- ✓ Comprendre et utiliser un code

Prénom :







Date :







1 Range les objets dans les cases du tableau.

	A	B	C	D	E
1					
2					
3					
4					
5					

	(C,3)
	(D,1)
	(E,5)
	(A,2)
	(B,4)
	(B,1)

1 Ecris les codes des cases où sont les objets.

	A	B	C	D	E
1					
2					
3					
4					
5					

	(,)
	(,)
	(,)
	(,)
	(,)
	(,)